

組 番 氏名

1 小数の問題について考えましょう。

(1) 下の問題に合う図と式をそれぞれ線で結びましょう。

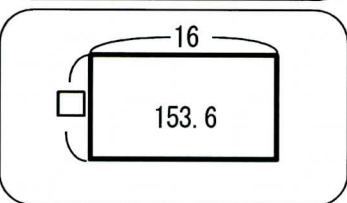
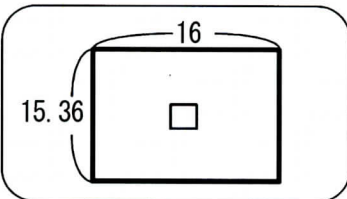
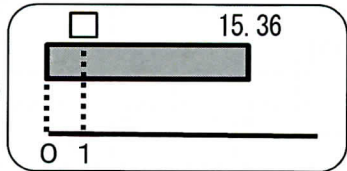
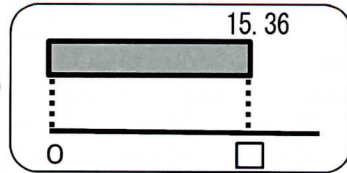
問題

153.6 m²の長方形の畑の横の長さは16mです。たての長さは何mでしょう。

15.36mのリボンを16人で分けると一人分は何mでしょう。

15.36mのリボンから16cmのリボンは、何本とれるでしょう。

図



式

1536 ÷ 16

153.6 ÷ 16

15.36 × 16

15.36 ÷ 16

(2) 下のわり算の筆算は、まちがいがあります。商を四捨五入して小数第1位 ($\frac{1}{10}$ の位) まで求めるとき、右の四角の中に正しい筆算を書きましょう。

$$\begin{array}{r}
 9 \\
 6.87 \\
 8 \overline{) 5.5} \\
 \underline{48} \\
 70 \\
 \underline{64} \\
 60 \\
 \underline{56} \\
 4 \quad \text{答え } 6.9
 \end{array}$$

$$\begin{array}{r}
 8 \overline{) 5.5} \\
 \hline
 \end{array}$$

 答え _____

(3) どのようなまちがいをしたのでしょう。

下の言葉を使って説明しましょう。

小数第2位 ($\frac{1}{100}$ の位) ・ 一の位

