

組 番 名 前

1 下の表は、はるかさんが4月から7月までに図書館からかりた本のさつ数を、しゅるい別に表しています。

(1) 表の ア の数は、何を表していますか。

(あ) 4月から7月までにかりた本のさつ数

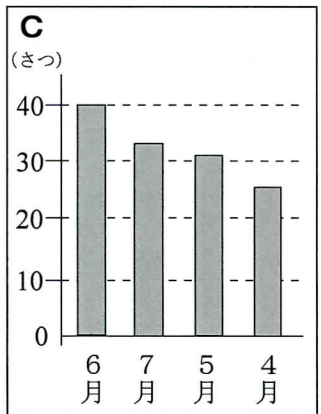
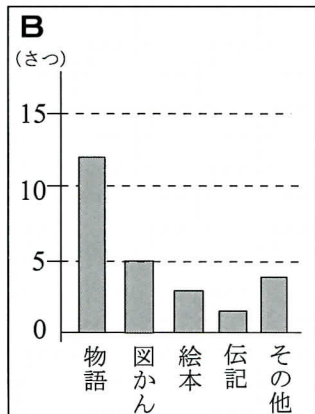
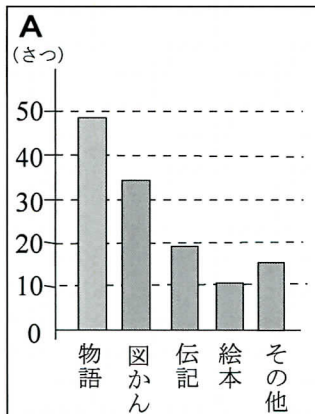
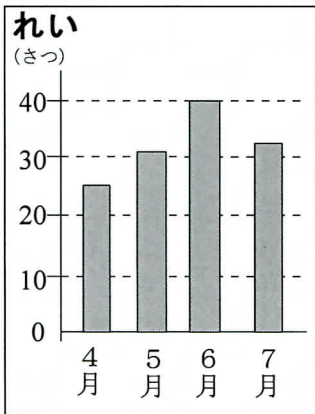
	4月(さつ)	5月(さつ)	6月(さつ)	7月(さつ)	合計(さつ)
物語	12	10	16	11	49
伝記	2	7	4	6	19
図かん	5	6	12	12	35
絵本	3	3	2	ア 2	10
その他	4	5	6	1	16
合計	26	31	40	32	イ

(2) 表の イ に入る数を求めます。式と答えを書きましょう。

式

答え

(3) たかしさんは、表の(う)を見て、れいのようにぼうグラフに表しました。他の3人の友だちは、表の(あ)~(え)のどれを見て表しましたか。□に記号を書きましょう。







(4) ゆうとさんとあきこさんは、A~Cのぼうグラフを見て分かることを話しています。□にA~Cの記号を書きましょう。



この4か月間でどんなしゅるいの本をたくさんかりたかが、じゅん番に表されているから見やすいね。



本を多くかりた月が、じゅん番に表されているので、何月によく本をかりたかが分かるね。

(5) はるかさんが「6月にかりた本のさつ数」を、右のぼうグラフに表します。しゅるいの多いじゅんに表しましょう。

