

平成26年度 学習指導改善調査 第4学年算数【解答】

組 番 名前

① 下の表は、はるかさんが4月から7月までに図書館からかりた本のさつ数を、しゅるい別に表しています。

(1) 表の**ア**の数は、何を表していますか。

**7月にかりた絵本のさつ数**

1-①

(あ) 4月から7月までにかりた本のさつ数

	4月(さつ)	5月(さつ)	6月(さつ)	7月(さつ)	合計(さつ)
物語	12	10	16	11	49
伝記	2	7	4	6	19
図かん	5	6	12	12	35
絵本	3	3	2	<b>ア</b> 2	10
その他	4	5	6	1	16
合計	26	31	40	32	<b>イ</b>

(2) 表の**イ**に入る数を求めます。式と答えを書きましょう。

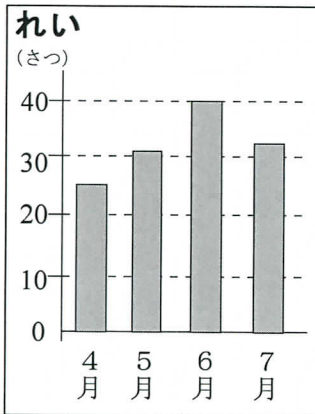
式  $26 + 31 + 40 + 32 = 129$   
 $(49 + 19 + 35 + 10 + 16 = 129)$

1-②

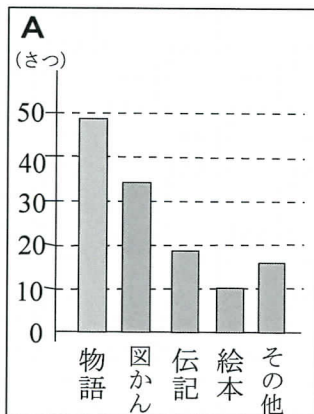
答え **129**

1-③

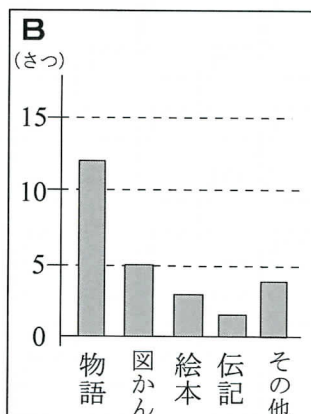
(3) たかしさんは、表の**う**を見て、**れい**のようにぼうグラフに表しました。他の3人の友だちは、表の**あ**~**え**のどれを見て表しましたか。□に記号を書きましょう。



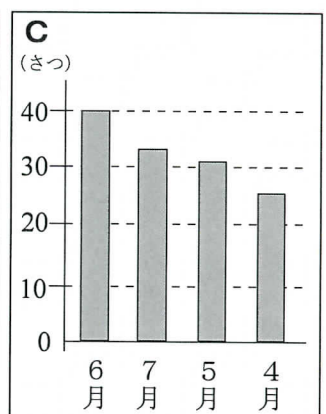
たかし



さとみ **1-④**  
え



こうた **1-⑤**  
あ



みき **1-⑥**  
う

(4) ゆうとさんとあきこさんは、**A**~**C**のぼうグラフを見て分かることを話しています。□に**A**~**C**の記号を書きましょう。

ゆうと あ **⑦**  
 この4か月間でどんなしゅるいの本をたくさんかりたかが、じゅん番に表されているから見やすいね。

あきこ **1-⑧**  
c  
 本を多くかりた月が、じゅん番に表されているので、何月によく本をかりたかが分かるね。

(5) はるかさんが「6月にかりた本のさつ数」を、右のぼうグラフに表します。しゅるいの多いじゅんに表しましょう。

